

Министерство образования и науки Республики Татарстан
государственное автономное профессиональное образовательное учреждение
«Лениногорский политехнический колледж»

КОМПЛЕКТ ОЦЕНОЧНЫХ СРЕДСТВ

для оценки результатов освоения учебной дисциплины

ОП.04 Техническая механика

основной профессиональной образовательной программы
по профессии/специальности СПО

13.02.13 Эксплуатация и обслуживание электрического и электромеханического оборудования (по отраслям)

Квалификация (и): техник

Форма обучения: очная

Нормативный срок освоения ОПОП: 3 года 10 мес.
на базе среднего общего образования

Рассмотрена на заседании ПЦК
общеобразовательных дисциплин
Протокол № 4 от 10 апреля 2024 г.
Председатель _____ Юсупова Г.М.

Утверждаю

Заместитель директора по НМР

Н.Б.Щербакова
« 15 » _____ 2024 г.

Комплект контрольно-оценочных средств учебной дисциплины разработан на основе Федерального государственного образовательного стандарта среднего профессионального образования (далее СПО) по специальности (профессии) 13.02.13 Эксплуатация и обслуживание электрического и электромеханического оборудования (по отраслям).

Разработчик:

Валеева Флюра Раилевна – преподаватель специальных дисциплин ГАПОУ
«Лениногорский политехнический колледж»

СОДЕРЖАНИЕ	стр.
I. Паспорт комплекта оценочных средств (КОС)	3
1.1 Область применения	3
1.2 Результаты освоения учебной дисциплины	3
1.3 Формы контроля и оценивания результатов освоения учебной дисциплины	5
1.4 Организация контроля и оценки освоения программы УД	5
1.5 Материально-техническое обеспечение контрольно-оценочных процедур	6
II. Комплект материалов для оценки освоения УД	9
2.1 Оценочные средства для текущего контроля	9
2.2 Оценочные средства для рубежного контроля	9
2.3 Оценочные средства для итогового контроля (промежуточной аттестации)	10
III. Оценочные средства	14
Приложение 1. Текущий контроль.	14
Приложение 2. Рубежный контроль.	20
Приложение 3. Итоговый контроль (промежуточная аттестация)	31
Лист согласования	36

I. Паспорт комплекта оценочных средств (КОС)

1.1 Область применения

Комплект оценочных средств предназначен для контроля и оценки результатов освоения ОП.04 Техническая механика основной профессиональной образовательной программы (далее -ОПОП) по профессии/ специальности СПО 13.02.13 Эксплуатация и обслуживание электрического и электромеханического оборудования (по отраслям)..

КОС включает контрольные материалы для проведения текущего (рубежного) контроля и промежуточной аттестации в форме *дифференцированного зачета*.

КОС разработан в соответствии с:

- основной профессиональной образовательной программы по направлению подготовки специальности СПО 13.02.13 Эксплуатация и обслуживание электрического и электромеханического оборудования (по отраслям);
- программы учебной дисциплины «Техническая механика».

1.2 Результаты освоения учебной дисциплины

В результате освоения учебной дисциплины обучающийся должен:

уметь:

- У1. Производить расчеты механических передач и простейших сборочных единиц;
- У2. Читать кинематические схемы;
- У3. Определять механические напряжения в элементах конструкции;

знать:

- З1. Основы технической механики;
- З2. Виды механизмов, их кинематические и динамические характеристики;
- З3. Методику расчета элементов конструкций на прочность, жесткость и устойчивость при различных видах деформации;
- З4. Основы расчетов механических передач и простейших сборочных единиц общего назначения.

Техник должен обладать общими компетенциями, включающими в деятельности применительно к различным контекстам;

ОК 02. Использовать современные средства поиска, анализа и интерпретации информации, и информационные технологии для выполнения задач профессиональной деятельности;

ОК 04. Эффективно взаимодействовать и работать в коллективе и команде;

ОК 05. Осуществлять устную и письменную коммуникацию на государственном языке Российской Федерации с учетом особенностей социального и культурного контекста;

ОК 07. Содействовать сохранению окружающей среды, ресурсосбережению, применять знания об изменении климата, принципы бережливого производства, эффективно действовать в чрезвычайных ситуациях;

ОК 09. Пользоваться профессиональной документацией на государственном и иностранном языках.

Техник должен обладать профессиональными компетенциями, соответствующими основным видам профессиональной деятельности:

ПК 1.1 Выполнять операции по техническому обслуживанию и ремонту электрического и электромеханического оборудования;

ПК 1.2. Проводить диагностику и испытания электрического и электромеханического оборудования;

ПК 1.3. Осуществлять оценку производственно-технических показателей работы электрического и электромеханического оборудования;

ПК 3.1. Проводить диагностику технического состояния электрического и электромеханического оборудования энергоустановок.

В результате освоения учебной дисциплины у обучающихся должны формироваться личностные результаты (ЛР):

ЛР 4. Проявляющий и демонстрирующий уважение к труду человека, осознающий ценность собственного труда и труда других людей. Экономически активный, ориентированный на осознанный выбор сферы профессиональной деятельности с учетом личных жизненных планов, потребностей своей семьи, российского общества. Выражающий осознанную готовность к получению профессионального образования, к непрерывному образованию в течение жизни Демонстрирующий позитивное отношение к регулированию трудовых отношений. Ориентированный на самообразование и профессиональную переподготовку в условиях смены технологического уклада и сопутствующих социальных перемен. Стремящийся к формированию в сетевой среде лично и профессионального конструктивного «цифрового следа»;

ЛР 6. Проявлять гражданско- патриотическую позицию, демонстрировать осознанное поведение на основе традиционных общечеловеческих ценностей, в том числе с учетом гармонизации межнациональных и межрелигиозных отношений, применять стандарты антикоррупционного поведения.

1.3 Формы контроля и оценивания результатов освоения учебной дисциплины

Предметом оценки служат знания и умения, предусмотренные ФГОС СПО по дисциплине «Техническая механика» и направленные на формирование общих и профессиональных компетенций.

Таблица 1

Код результата обучения	Формы		
	текущего контроля	рубежного контроля	промежуточной аттестации
1	2	3	4
У1-У3	УО	ПР, Т	ДЗ
31-34	УО, ПК, Т	ПР, Т	ДЗ
ОК 01, ОК 02, ОК 04, ОК 05, ОК 07, ОК 09	ПЗ	ПЗ	ДЗ
ПК 1.1 - ПК 1.3, ПК 3.1	ПЗ	ПЗ	ДЗ
ЛР 4, ЛР 6	ПЗ	ПЗ	ДЗ

Условные обозначения:

УО – устный ответ

ПР – практическая работа

Т – тестирование

ПК – проверка конспектов

ДЗ – дифференцированный зачет

ПЗ – познавательные задания

1.4 Организация контроля и оценки освоения программы УД

Контроль и оценка результатов освоения учебной дисциплины осуществляется преподавателем в процессе проведения аудиторных и практических занятий, тестирования, а также выполнения обучающимися индивидуальных заданий, проектов, исследований.

Таблица 2

Виды	Содержание	Методы	
Текущий	Освоение учебного материала по теме, учебной единице	Диагностические задания: опросы, практические работы, тестирование.	Коррекция – ликвидация пробелов. Повторные тесты, индивидуальные консультации.
Рубежный	Освоение учебного материала по разделу.	Диагностические задания: опросы, практические работы, тестирование.	
Итоговый	Контроль выполнения поставленных задач.	Проведение дифференцированного зачета по всем разделам дисциплины	

1.5 Материально-техническое обеспечение контрольно-оценочных процедур:

Таблица 3

Форма контроля	Перечень средств
Текущий	Модели, макеты, смарт доска, тренажеры, таблицы
Рубежный	Дидактические материалы, таблицы
Итоговый	Дифференцированный зачет

II. Комплект материалов для оценки освоения УД

2.1 Оценочные средства для текущего контроля

Типы заданий для текущего контроля

Таблица 4

Разделы/ темы по программе УД	Тип задания*									
	У1	У2	У3	З1	З2	З3	З4	ОК 01, ОК 02, ОК 04, ОК 05, ОК 07, ОК 09	ПК 1.1 - ПК 1.3, ПК 3.1	ЛР 4, ЛР 6
Раздел 1. ТЕОРЕТИЧЕСКАЯ МЕХАНИКА										
Тема.1.1 Статика	ПЗ			ПЗ			РЗ		ПЗ	УО
Тема.1.2 Кинематика		РЗ			РЗ		ПЗ	УО	ПЗ	
Тема.1.3 Динамика	РЗ		ПЗ			РЗ			ПЗ	УО
Раздел 2 СОПРОТИВЛЕНИЕ МАТЕРИАЛОВ										
Тема 2.1 Сопротивление материалов	РЗ		ПЗ	РЗ		ПЗ	З	УО	ПЗ	УО
Раздел 3 ДЕТАЛИ МАШИН										
Тема 3.1 Детали машин		РЗ	ПЗ		РЗ	ПЗ	ПЗ	УО	ПЗ	УО

Прилагаются оценочные средства в приложение 1.

2.2 Оценочные средства для рубежного контроля

Типы заданий для рубежного контроля

Таблица 5

Разделы/ темы по программе УД	Тип задания*									
	У1	У2	У3	З1	З2	З3	З4	ОК 01, ОК 02, ОК 04, ОК 05, ОК 07, ОК 09	ПК 1.1 - ПК 1.3, ПК 3.1	ЛР 4, ЛР 6
Раздел 1. ТЕОРЕТИЧЕСКАЯ МЕХАНИКА										
Тема.1.1 Статика	Т	Т	Т		Т	Т		Т	Т	Т
Тема.1.2 Кинематика		Т		Т	Т		Т		Т	

**проектное задание, реферативное задание, расчетное задание, поисковое задание, аналитическое задание, графическое задание, задание на программирование, тест, экзаменационное задание, практическое задание (лабораторная, практическая работа), ролевое задание, исследовательское задание*

Разделы/ темы по программе УД	Тип задания*									
	У1	У2	У3	З1	З2	З3	З4	ОК 01, ОК 02, ОК 04, ОК 05, ОК 07, ОК 09	ПК 1.1 - ПК 1.3, ПК 3.1	ЛР 4, ЛР 6
Тема.1.3 Динамика	Т		Т	Т		Т	Т	Т		Т
Раздел 2 СОПРОТИВЛЕНИЕ МАТЕРИАЛОВ										
Тема 2.1 Соппротивление материалов	Т	Т	Т		Т		Т	Т	Т	Т
Раздел 3 ДЕТАЛИ МАШИН										
Тема 3.1 Детали машин	Т		Т	Т		Т	Т	Т	Т	

Прилагаются оценочные средства в приложение 2.

2.3 Оценочные средства для итогового контроля (промежуточной аттестации)

Таблица 6

Разделы/ темы по программе УД	Тип задания*									
	У1	У2	У3	З1	З2	З3	З4	ОК 01, ОК 02, ОК 04, ОК 05, ОК 07, ОК 09	ПК 1.1 - ПК 1.3, ПК 3.1	ЛР 4, ЛР 6
Раздел 1. ТЕОРЕТИЧЕСКАЯ МЕХАНИКА										
Тема.1.1 Статика	ДЗ	ДЗ	ДЗ		ДЗ	ДЗ	ДЗ	ДЗ	ДЗ	ДЗ
Тема.1.2 Кинематика	ДЗ		ДЗ	ДЗ	ДЗ		ДЗ		ДЗ	ДЗ
Тема.1.3 Динамика	ДЗ	ДЗ	ДЗ	ДЗ	ДЗ	ДЗ	ДЗ	ДЗ	ДЗ	ДЗ
Раздел 2 СОПРОТИВЛЕНИЕ МАТЕРИАЛОВ										
Тема 2.1 Соппротивление материалов	ДЗ	ДЗ		ДЗ	ДЗ		ДЗ	ДЗ		ДЗ
Раздел 3 ДЕТАЛИ МАШИН										
Тема 3.1 Детали машин		ДЗ	ДЗ	ДЗ		ДЗ		ДЗ	ДЗ	ДЗ

Прилагаются оценочные средства в приложение 3.

**проектное задание, реферативное задание, расчетное задание, поисковое задание, аналитическое задание, графическое задание, задание на программирование, тест, экзаменационное задание, практическое задание (лабораторная, практическая работа), ролевое задание, исследовательское задание*

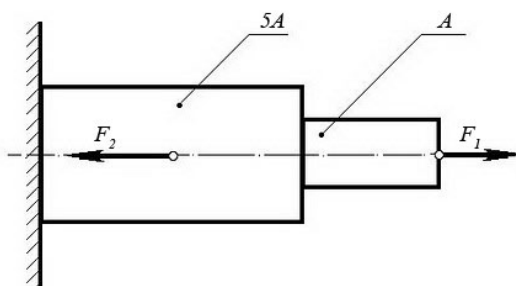
III. Оценочные средства

Приложение 1. Текущий контроль

Практические задания:

Задача №1:

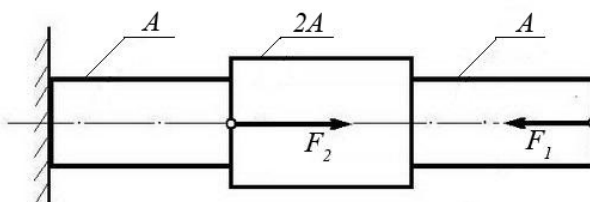
При помощи эпюры напряжений определить наиболее напряженный участок двухступенчатого круглого бруса, нагруженного продольными силами F_1 и F_2 .



Сила F_1	Сила F_2	Площадь сечения A
20 кН	80 кН	0,1 м ²

Задача №2:

Ступенчатый брус нагружен продольными силами F_1 и F_2 . Построить эпюру нормальных напряжений в сечениях бруса и указать наиболее напряженный участок. Вес бруса не учитывать.

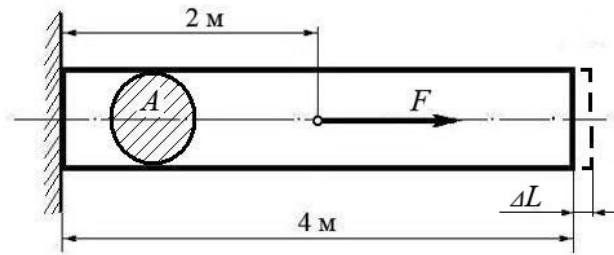


Сила F_1	Сила F_2	Площадь сечения A
10 кН	25 кН	0,2 м ²

Задача №3:

Используя закон Гука, найти удлинение ΔL однородного круглого бруса, если известно, что он изготовлен из алюминиевого сплава, имеющего модуль упругости $E = 0,4 \times 10^5$ МПа.

Вес бруса не учитывать.

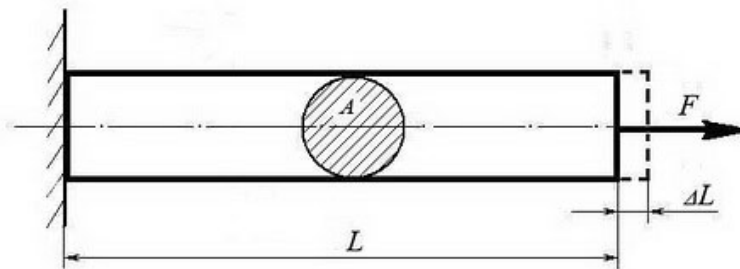


Сила F	Площадь сечения A
200 кН	0,01 м ²

(Ответ: общее удлинение бруса $\Delta L = FL / (EA) = 2 \times 10^5 \times 2 / 0,4 \times 10^{11} \times 0,01 = 10^{-3}$ м или $\Delta L = 1,0$ мм)

Задача №4:

Однородный брус длиной L и поперечным сечением площадью A нагружен растягивающей силой F . Используя закон Гука, найти удлинение бруса ΔL , если известно, что он изготовлен из стального сплава, имеющего модуль упругости $E = 2,0 \times 10^5$ МПа. Вес бруса не учитывать.



Сила F	Площадь сечения A	Длина бруса L
500 кН	0,05 м ²	10 м

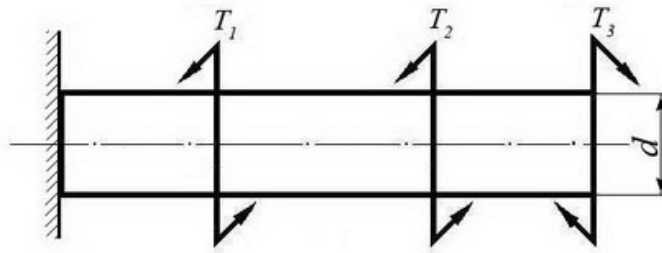
(Ответ: удлинение бруса $\Delta L = FL / (EA) = 5 \times 10^5 \times 10 / 2 \times 10^{11} \times 0,05 = 5 \times 10^{-4}$ м или $\Delta L = 0,5$ мм)

Задача №5:

Однородный круглый брус жестко зашцеилен одним концом и нагружен внешними вращающими моментами T_1 , T_2 и T_3 .

Построить эпюру крутящих моментов и выполнить проверочный расчет бруса на прочность, при условии, что предельно допустимое касательное напряжение: $[\tau] = 30$ МПа.

При расчете принять момент сопротивления кручению круглого бруса $W \approx 0,2 d^3$.

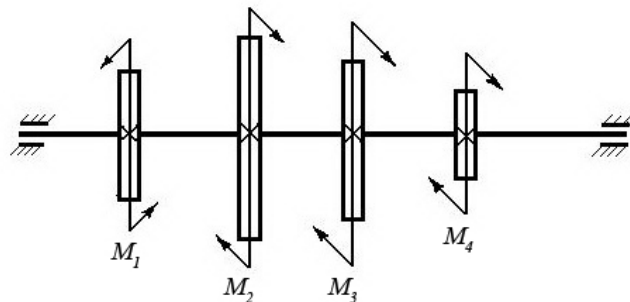


Вращающий момент T_1	Вращающий момент T_2	Вращающий момент T_3	Диаметр бруса d
30 Нм	40 Нм	30 Нм	0,02 м

(Ответ: максимальное касательное напряжение в брус - 25 МПа, что меньше предельно допустимого, т.е. брус выдержит заданную нагрузку.)

Задача №6:

Однородный круглый вал нагружен вращающими моментами M_1 , M_2 , M_3 и M_4 . Построить эпюру крутящих моментов в сечениях вала и определить наиболее напряженный участок. С помощью формулы $M_{кр} \approx 0,2 d^3 [\tau]$ определить минимальный допустимый диаметр вала d из условия прочности.

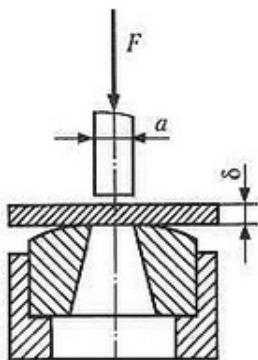


$[\tau]$	M_1	M_2	M_3	M_4
30 МПа	160 Нм	50 Нм	80 Нм	30 Нм

(Ответ: диаметр вала d из условия прочности должен быть не менее 30 мм.)

Задача №7

Определите силу F , необходимую для продавливания круглым пуансоном диаметром a отверстия в листе металла толщиной δ . Предел прочности листового металла на срез: $[\tau] = 360$ МПа.



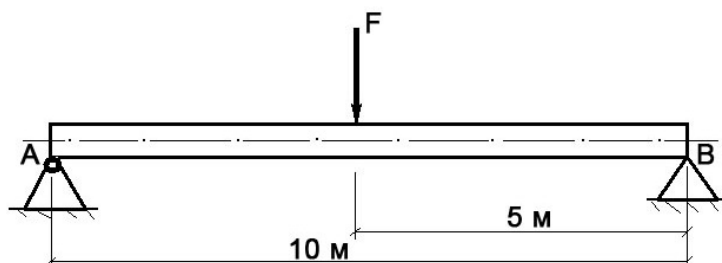
Толщина листа металла δ	Диаметр пробойника a
0,5 мм	10 мм

(Ответ: $F \geq A_{ср} \times [\tau] \geq \delta \times \pi \times a \times [\tau] \geq 0,0005 \times 3,14 \times 0,01 \times 360 \times 10^6 \geq 5652$ Н.

здесь A_{cp} – площадь цилиндрической поверхности, по которой осуществляется срез)

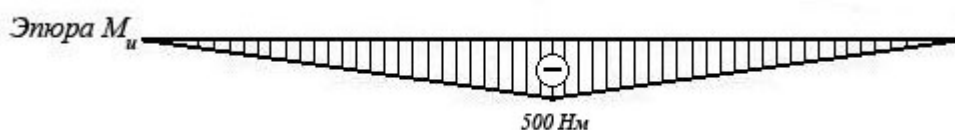
Задача №8

Брус постоянного сечения опирается на две опоры, одна из которых шарнирная, вторая – угловая (ребро). В середине бруса приложена поперечная изгибающая сила $F = 200 \text{ Н}$. Построить эпюру изгибающих моментов и показать наиболее нагруженное сечение бруса. Вес бруса не учитывать.



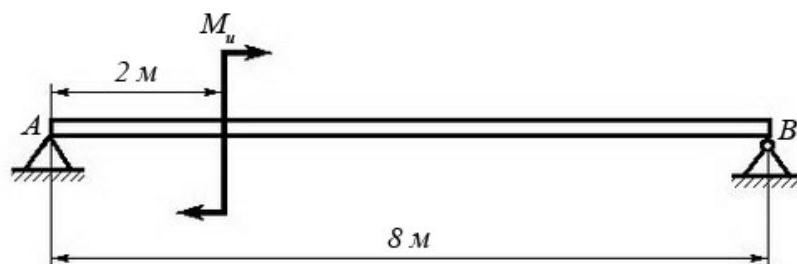
Решение задачи:

- Исходя из того, что реакция угловой опоры направлена по нормали к оси бруса, составляем уравнение равновесия относительно опоры A (из условия равновесия - сумма моментов относительно любой точки бруса равна нулю) и определяем реакцию опоры B:
$$10 R_B - 5 F = 0 \Rightarrow R_B = 5 F / 10 = 100 \text{ Н};$$
- Строим эпюру изгибающих моментов, начиная от опоры B. Наиболее нагруженное сечение бруса (изгибающий момент - 500 Нм) находится в его середине.



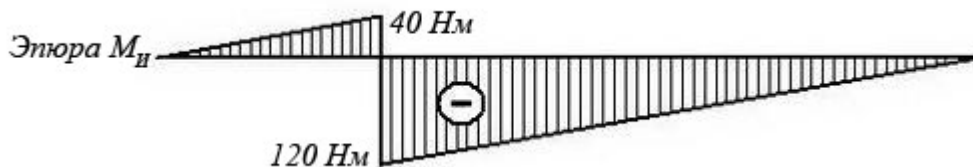
Задача №9

Брус постоянного сечения опирается на две опоры, одна из которых угловая (ребро), вторая – шарнирная. Брус нагружен изгибающим моментом $M_u = 160 \text{ Нм}$. Построить эпюру изгибающих моментов и показать наиболее нагруженное сечение бруса. Вес бруса не учитывать.



Решение задачи:

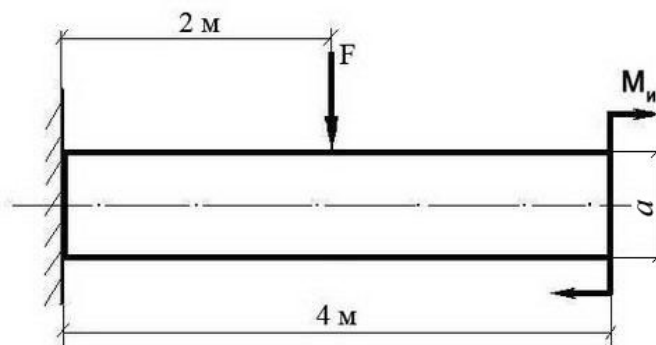
- Исходя из того, что реакция угловой опоры направлена по нормали к оси бруса, составляем уравнение равновесия относительно опоры B (из условия равновесия - сумма моментов относительно любой точки бруса равна нулю) и определяем реакцию опоры A:
$$8 R_A - M_u = 0 \Rightarrow R_A = M_u / 8 = 20 \text{ Н};$$
- Строим эпюру изгибающих моментов, начиная от опоры A. Наиболее нагруженное сечение бруса (изгибающий момент - 120 Нм) находится рядом с сечением, в котором приложен изгибающий момент M_u (со стороны опоры B)



Задача №10:

Построить эюру изгибающих моментов и выполнить расчет квадратного бруса на прочность, при условии, что предельно допустимое нормальное напряжение при изгибе: $[\sigma] \leq 100$ МПа.

Вес бруса не учитывать.

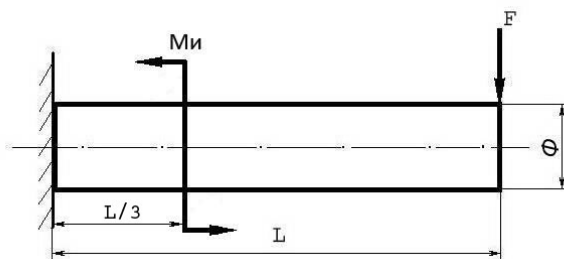


F	Mн	a
100 Н	100 Н/м	0,1 м

Задача №11

Построить эюру изгибающих моментов и выполнить расчет бруса на прочность, при условии, что предельно допустимое нормальное напряжение при изгибе: $[\sigma] \leq 100$ МПа.

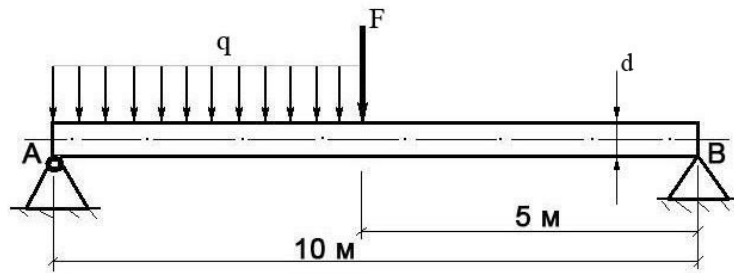
Вес бруса не учитывать.



Изгибающий момент Mн	Поперечная сила F	Длина бруса L	Диаметр бруса φ
25 Нм	250 Н	12 м	8 см

Задача №12

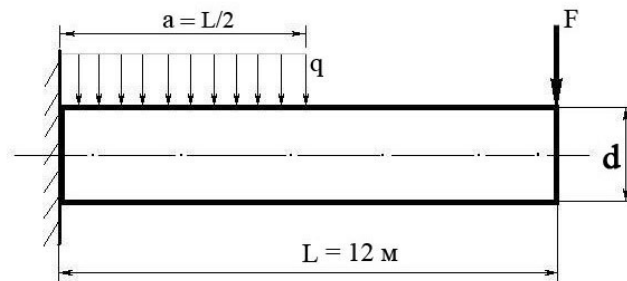
Построить эюру изгибающих моментов и выполнить расчет круглого бруса на прочность, при условии, что предельно допустимое нормальное напряжение при изгибе: $[\sigma] \leq 100$ МПа.



Поперечная сила F	Распределенная нагрузка q	Диаметр бруса d
100 Н	20 Н/м	10 см

Задача №13

Построить эпюру изгибающих моментов и выполнить расчет бруса на прочность, при условии, что предельно допустимое нормальное напряжение при изгибе: $[\sigma] \leq 100$ МПа. Брус считать невесомым.



Распределенная нагрузка q	Поперечная сила F	Диаметр бруса d
100 Н/м	200 Н	15 см

Приложение 2. Рубежный контроль

Тесты (контрольно-оценочные средства) обеспечивают возможность объективной оценки знаний и умений, обучающихся в баллах по единым для всех критериям.

При разработке тестов используются задания закрытого типа: после текста вопроса предлагается перечень закрытий, т.е. возможные варианты ответа, а также открытые.

При разработке дисциплинарных и других тестов используются задания: -- на классификацию предметов, явлений по указанному признаку («Укажите..., относящуюся к ...», «На какие группы подразделяют ...», «Что относится к ...»);

- на установление значения того или иного явления, процесса (Какое влияние оказывает...);

- на объяснение, обоснование («Чем объяснить ...», «Увеличение ... при сокращении ... объясняется...»);

- на определение цели действия процесса («Какую цель преследует...», «Каково назначение ...», «Для чего выполняется ...») и т.п.;

Общее количество вопросов в каждом варианте контрольно-оценочных средств – 30 (итогового теста по «Технической механике»). Время на прохождение итогового теста ограничивается 90 минутами. Время установлено с учётом 2 минуты на обдумывание и решение каждого закрытого вопроса (2 минуты x 23 вопроса = 46 минут), 4 минуты на открытые вопросы (4 минуты x 7 вопросов = 28 минут), плюс 16 минут на организационные вопросы (инструктаж) и общее знакомство с работой (итоговым тестом).

При ответе на вопрос может быть несколько правильных вариантов ответов или только один.

Инструкция по выполнению итогового теста:

1. Проверка готовности учащихся к занятиям.
2. Запрещается пользоваться какими-либо техническими средствами (телефоном с интернетом и т.п.).
3. Каждому присутствующему учащемуся раздаётся вариант итогового теста и двойной тетрадный лист со штампом учебного заведения в верхнем левом углу.
4. На первой странице двойного тетрадного листка внизу под штампом пишется: итоговое тестирование по дисциплине «Техническая механика», номер группы и курс, фамилия и имя в родительном падеже, номер варианта, внизу страницы дата проведения тестирования.
5. На второй странице в столбик от 1 до 30 пишутся номера вопросов.
6. Варианты ответов отделяются от номеров вопросов тире.
7. После данного варианта ответа в виде цифры больше ничего не пишется (расшифровка ответа), там, где требуется слово в ответе написать, пишется только слово-ответ.

8. Что исправить уже данный вариант ответа его необходимо аккуратно одной кривой линией зачеркнуть и рядом разборчиво написать новый вариант ответа (в противном случае все исправления будут оцениваться как ошибочные).

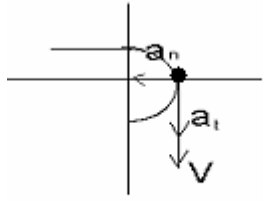
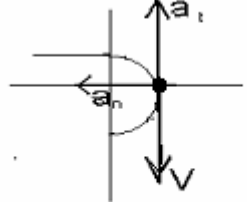
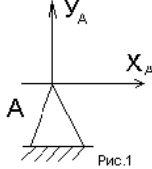
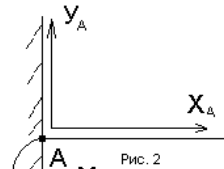
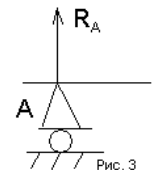
11. После проверки тестовых ответов до студентов доводятся оценки.

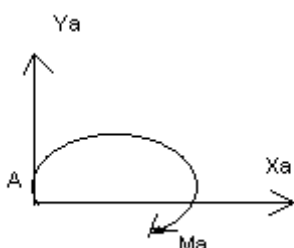
Примеры тестовых заданий

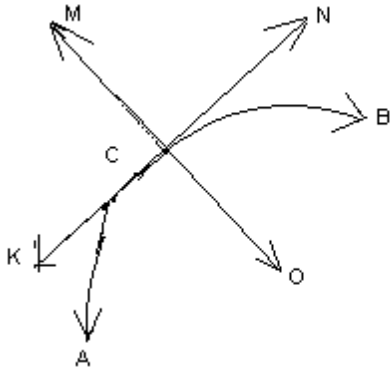
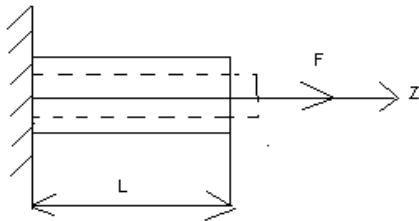
Вариант- 1

Блок А

№ п/п	Задание (вопрос)							
<p>Инструкция по выполнению заданий № 1-4: соотнесите содержание столбца 1 с содержанием столбца 2. Запишите в соответствующие строки бланка ответов букву из столбца 2, обозначающую правильный ответ на вопросы столбца 1. В результате выполнения Вы получите последовательность букв. Например,</p> <table border="1" style="margin-left: auto; margin-right: auto;"> <thead> <tr> <th>№ задания</th> <th>Вариант ответа</th> </tr> </thead> <tbody> <tr> <td>1</td> <td>1-А, 2-Б, 3-В.</td> </tr> </tbody> </table>					№ задания	Вариант ответа	1	1-А, 2-Б, 3-В.
№ задания	Вариант ответа							
1	1-А, 2-Б, 3-В.							
1.	<p>Установить соответствие между рисунками и определениями</p>	<p><u>Рисунок.</u></p> <p>1.Рис. 1 2.Рис. 2 3.Рис. 3</p>	<p><u>Определение</u></p> <p>А. Изгиб Б. Сжатие В. Растяжение Г. Кручение</p>	<p>1 – В 2 – Б 3 – А</p>				
2.	<p>Установить соответствие между рисунками и выражениями для расчета проекции силы на ось ОХ</p>	<p><u>Силы</u></p> <p>1. F1 2. F2 3. F3</p>	<p><u>Проекция сил</u></p> <p>А. 0 Б. -F В. -F sin 35° Г. -F cos 35°</p>	<p>1 – Б 2 – А 3 – Г</p>				
3.	<p>Установить соответствие между рисунками и видами движения точки.</p>	<p><u>Рис.</u></p> <p>1.Рис.1 2.Рис.2 3.Рис.3</p>	<p><u>Виды движения</u></p> <p>А. Равномерное</p>	<p>1 – Б 2 – В</p>				

	 <p>Рис. 1</p>  <p>Рис. 2</p>	Б. Равноускоренное В. Равнозамедленное	
4.	Установите соответствие между рисунком и определением:  <p>Рис.1</p>  <p>Рис. 2</p>  <p>Рис. 3</p>	<u>Рис.</u> <u>Определение</u> 1. Рис.1 А. Жесткая заделка 2. Рис.2 Б. Неподвижная опора 3. Рис.3 В. Подвижная опора Г. Вид опоры не определен	1 – Б 2 – А 3 – В
Инструкция по выполнению заданий № 5 -23: выберите цифру, соответствующую правильному варианту ответа и запишите ее в бланк ответов.			
5.	Укажите, какое движение является простейшим.	1. Молекулярное 2. Механическое 3. Движение электронов 4. Отсутствие движения	2.
6.	Укажите, какое действие производят силы на реальные тела.	1. Силы, изменяющие форму и размеры реального тела 2. Силы, изменяющие движение реального тела 3. Силы, изменяющие характер движения и деформирующие реальные тела 4. Действие не наблюдаются	3.
7.	Укажите, признаки уравнивающей силы?	1. Сила, производящая такое же действие как данная система сил 2. Сила, равная по величине равнодействующей и направленная в противоположную сторону 3. Признаков действий	2.

		нет	
8.	Укажите, к чему приложена реакция опоры	1. К самой опоре 2. К опирающему телу 3. Реакция отсутствует	2.
9.	Укажите, какую систему образуют две силы, линии, действия которых перекрещиваются.	1. Плоскую систему сил 2. Пространственную систему сил 3. Сходящуюся систему сил 4. Система отсутствует	3.
10.	Укажите, чем можно уравновесить пару сил?	1. Одной силой 2. Парой сил 3. Одной силой и одной парой	2.
11.	Укажите, что надо знать чтобы определить эффект действия пары сил?	1. Величину силы и плечо пары 2. Произведение величины силы на плечо 3. Величину момента пары и направление 4. Плечо пары	3.
12.	Укажите опору, которой соответствует составляющие реакций опоры балки 	1. Шарнирно-неподвижная 2. Шарнирно-подвижная 3. Жесткая заделка	3.
13.	Нормальная работа зубчатого механизма была нарушена из-за возникновения слишком больших упругих перемещений валов. Почему нарушилась нормальная работа передачи	1. Из-за недостаточной прочности 2. Из-за недостаточной жесткости валов 3. Из-за недостаточной устойчивости валов	1.
14.	Укажите вид изгиба, если в поперечном сечении балки возникли изгибающий момент и поперечная сила	1. Чистый изгиб 2. Поперечный изгиб	2.
15.	Точка движется из А в В по траектории, указанной на рисунке. Укажите направление скорости точки?	1. Скорость направлена по СК 2. Скорость направлена по СМ 3. Скорость	3.

		<p>направлена по CN 4. Скорость направлена по CO</p>	
16.	Укажите, в каком случае материал считается однородным?	<ol style="list-style-type: none"> 1. Свойства материалов не зависят от размеров 2. Материал заполняет весь объем 3. Физико-механические свойства материала одинаковы во всех направлениях. 4. Температура материала одинакова во всем объеме 	3.
17.	Укажите, как называют способность конструкции сопротивляться упругим деформациям?	<ol style="list-style-type: none"> 1. Прочность 2. Жесткость 3. Устойчивость 4. Выносливость 	3.
18.	<p>Укажите, какую деформацию получил брус, если после снятия нагрузки форма бруса восстановилась до исходного состояния?</p> 	<ol style="list-style-type: none"> 1. Незначительную 2. Пластическую 3. Остаточную 4. Упругую 	4.
19.	Укажите точную запись условия прочности при растяжении и сжатии?	<ol style="list-style-type: none"> 1. $\sigma = N/A = [\sigma]$ 2. $\sigma = N/A \leq [\sigma]$ 3. $\sigma = N/A \geq [\sigma]$ 4. $\sigma = N/A > [\sigma]$ 	2.

20.	Укажите, какие механические напряжения в поперечном сечении бруса при нагружении называют «нормальными»	1. Возникающие при нормальной работе 2. Направленные перпендикулярно площадке 3. Направленные параллельно площадке 4. Лежащие в площади сечения	2.
21.	Укажите, что можно сказать о плоской системе сил, если при приведении ее к некоторому центру главный вектор и главный момент оказались равными нулю?	1. Система не уравновешена 2. Система заменена равнодействующей 3. Система заменена главным вектором 4. Система уравновешена	4.
22.	Укажите, как называется и обозначается напряжение, при котором деформации растут при постоянной нагрузке?	1. Предел прочности, σ_B 2. Предел текучести, σ_T 3. Допускаемое напряжение, $[\sigma]$ 4. Предел пропорциональности, $\sigma_{пц}$	2.
23.	Указать по какому из уравнений, пользуясь методом сечений, можно определить продольную силу в сечении?	1. $Q_x = \sum F_{kx}$ 2. $Q_y = \sum F_{ky}$ 3. $N = \sum F_{kz}$ 4. $M_k = \sum M_z(F_k)$	3.

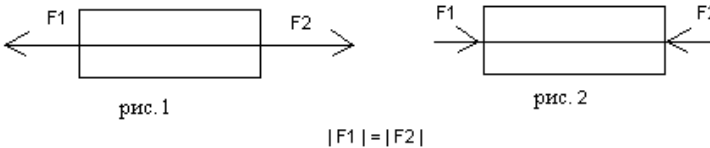
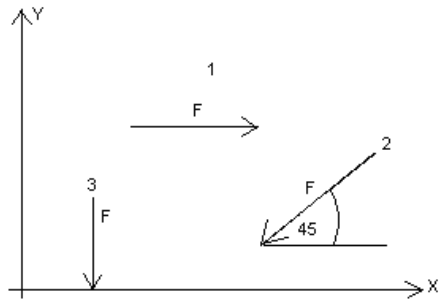
Блок Б

№ п/п	Задание (вопрос)	
Инструкция по выполнению заданий № 24-30: В соответствующую строку бланка ответов запишите ответ на вопрос, окончание предложения или пропущенные слова.		
24.	Допишите предложение: Плечо пары – кратчайшее ..., взятое по перпендикуляру к линиям действия сил.	1. Расстояния
25.	Допишите предложение: Условие равновесия системы пар моментов состоит в том, что алгебраическая сумма моментов пар равняется	1. Нулю
26.	Допишите предложение: Напряжение характеризует ... и направление внутренних сил, приходящихся на единицу площади в данной точке сечения тела.	1. Величину

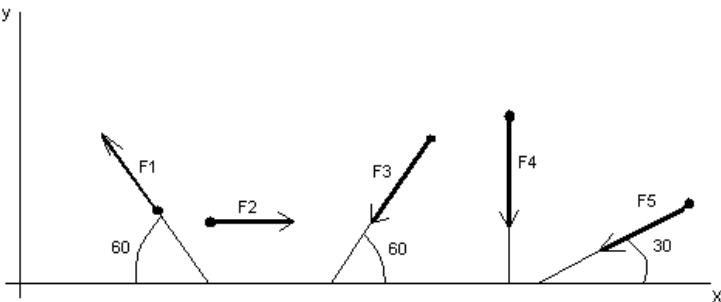
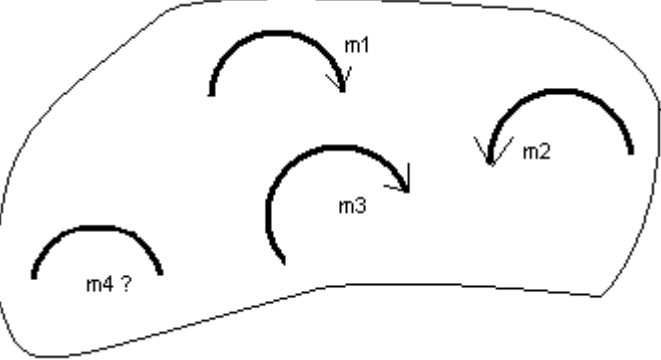
27.	Допишите предложение: Растяжение или сжатие – это такой вид деформации стержня, при котором в его поперечны сечениях возникает один внутренний силовой фактор- ...сила.	1. Продольная
28.	Допишите предложение: При вращательном движении твердого тела вокруг неподвижной оси траектория всех точек, не лежащих на оси вращения, представляют собой	1. Окружность
29.	Допишите предложение: Работа пары сил равна произведению ... на угол поворота, выраженный в радианах.	1. Момент
30.	Допишите предложение: Мощность при вращательном движении тела равна произведению вращающего момента на	1. Угловую скорость

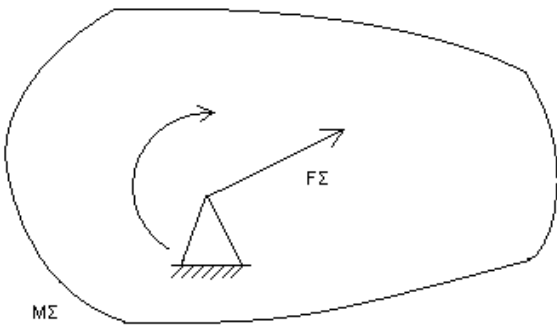
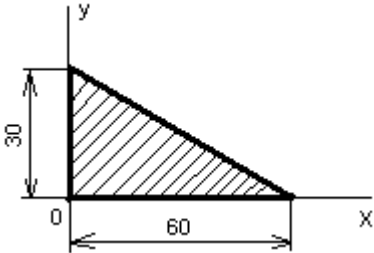
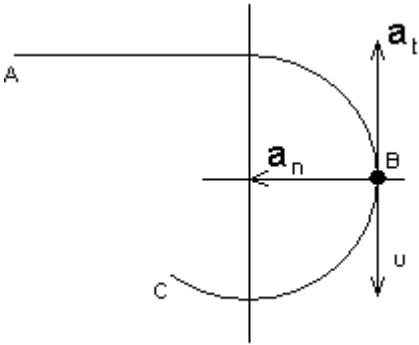
Вариант- 2

Блок А

№ п/ п	Задание (вопрос)						
<p>Инструкция по выполнению заданий № 1-4: соотнесите содержание столбца 1 с содержанием столбца 2. Запишите в соответствующие строки бланка ответов букву из столбца 2, обозначающую правильный ответ на вопросы столбца 1. В результате выполнения Вы получите последовательность букв. Например,</p> <table border="1" style="margin-left: auto; margin-right: auto;"> <thead> <tr> <th>№ задания</th> <th>Вариант ответа</th> </tr> </thead> <tbody> <tr> <td>1</td> <td>1-А, 2-Б, 3-В.</td> </tr> </tbody> </table>				№ задания	Вариант ответа	1	1-А, 2-Б, 3-В.
№ задания	Вариант ответа						
1	1-А, 2-Б, 3-В.						
1.	Установите соответствие между рисунками и определениями: 	<u>Рисунки</u> 1. Рис.1 2. Рис.2	<u>Определения</u> А. Изгиб Б. Сжатие В. Растяжение	1 – В 2 – Б			
2.	Установите соответствие между рисунками и выражениями для расчета проекции силы на ось ОУ 	<u>Силы</u> 1. F_1 2. F_2 3. F_3	<u>Проекция</u> А. 0 Б. $-F$ В. $-F \sin 45^\circ$ Г. $F \cos 45^\circ$	1– А 2– В 3 –Б			
3.	Установите соответствие между рисунками и направлениями моментов пар	<u>Рисунки</u> 1. Рис.1 2. Рис.2 3. Рис.3	<u>Направление</u> А– Положительное направление	1– А 2– Б 3– А			

		Б – Отрицательное направление В – Нет вариантов	
4.	Установите соответствие между рисунками и определениями: 	Рисунки 1. Рис.1 2. Рис.2 3. Рис.3 4. Рис.4 Направление А– Неравномерное криволинейное движение Б – Равномерное движение В – Равномерное Криволинейное движение Г – Неравномерное движение Д – Верный ответ не приведен	1 – Б 2 – Г 3 – В 4 – А
Инструкция по выполнению заданий № 5 -23: выберите цифру, соответствующую правильному варианту ответа и запишите ее в бланк ответов.			
5.	Укажите, какую характеристику движения поездов можно определить на карте железнодорожных линий?	1.Траекторию движения 2. Расстояние между поездами 3. Путь, пройденный поездом 4. Характеристику движения нельзя определить	1
6.	Укажите, в каком случае не учитывают деформации тел.	1. При исследовании равновесия. 2. При расчете на прочность 3. При расчете на жесткость 4. При расчете выносливости	1
7.	Укажите, какое изображение вектора содержит все элементы, характеризующие силу: 	1. Рис 1 2. Рис 2 3. Рис 3 4. Рис 4	3
8.	Укажите, как взаимно расположена равнодействующая и уравновешенная силы?	1. Они направлены в одну сторону	

		<p>2. Они направлены по одной прямой в противоположные стороны</p> <p>3. Их взаимное расположение может быть произвольным</p> <p>4. Они пересекаются в одной точке</p>	2
9.	<p>Укажите, почему силы действия и противодействия не могут взаимно уравновешиваться?</p>	<p>1. Эти силы не равны по модулю</p> <p>2. Они не направлены по одной прямой</p> <p>3. Они не направлены в противоположные стороны</p> <p>4. Они принадлежат разным телам</p>	4
10.	<p>Выбрать выражение для расчета проекции силы F_5 на ось Ox</p> 	<p>1. $-F_5 \cos 30^\circ$</p> <p>2. $F_5 \cos 60^\circ$</p> <p>3. $-F_5 \cos 60^\circ$</p> <p>4. $F_5 \sin 120^\circ$</p>	1
11.	<p>Тело находится в равновесии $m_1 = 15\text{Нм}$; $m_2 = 8\text{Нм}$; $m_3 = 12\text{Нм}$; $m_4 = ?$ Определить величину момента пары m_4</p> 	<p>1. 14Нм</p> <p>2. 19Нм</p> <p>3. 11Нм</p> <p>4. 15Нм</p>	2
12.	<p>Произвольная плоская система сил приведена к главному вектору F_Σ и главному моменту M_Σ. Чему равна величина равнодействующей? $F_\Sigma = 105\text{кН}$ $M_\Sigma = 125\text{кНм}$</p>	<p>1. 25кН</p> <p>2. 105кН</p> <p>3. 125кН</p> <p>4. 230кН</p>	

			2
13.	<p>Чем отличается главный вектор системы от равнодействующей той же системы сил?</p>	<ol style="list-style-type: none"> 1. Величиной 2. Направлением 3. Величиной и направлением 4. Точкой приложения 	4
14.	<p>Сколько неизвестных величин можно найти, используя уравнения равновесия пространственной системы сходящихся сил?</p>	<ol style="list-style-type: none"> 1. 6 2. 2 3. 3 4. 4 	2
15.	<p>что произойдет с координатами X_c и Y_c, если увеличить величину основания треугольника до 90 мм?</p> 	<ol style="list-style-type: none"> 1. X_c и Y_c не изменятся 2. Изменится только X_c 3. Изменится только Y_c 4. Изменится и X_c, и Y_c 	2
16.	<p>Точка движется по линии ABC и в момент t занимает положение B. Определите вид движения точки</p>  <p>$a_t = \text{const}$</p>	<ol style="list-style-type: none"> 1. Равномерное 2. Равноускоренное 3. Равнозамедленное 4. Неравномерное 	3

17.	По какому из уравнений, пользуясь методом сечений, можно определить продольную силу в сечении?	$1. Q_x = \sum F_{KX}$ $2. Q_y = \sum F_{KY}$ $3. N = \sum F_{KZ}$ $4. M_K = \sum M_Z(F_K)$	3
18.	Укажите, какой знак имеет площадь отверстий в формуле для определения центра тяжести	1. Знак минус 2. Знак плюс 3. Ни тот не другой	1
19.	Укажите, какая деформация возникла в теле если после снятия нагрузки размеры и форма тела полностью восстановились?	1. Упругая деформация 2. Пластическая деформация 3. Деформация не возникла	1
20.	Укажите, почему произошло искривление спицы под действием сжимающей силы?	1. Из-за недостаточной прочности 2. Из-за недостаточной жесткости 3. Из-за недостаточной устойчивости. 4. Из-за недостаточной выносливости	3
21.	Укажите, как изменится вращающий момент М, если при одной и той же мощности уменьшит угловую скорость вращения вала.	1. Вращающий момент уменьшится 2. Вращающий момент увеличится 3. Вращающий момент равен нулю 4. Нет разницы	2
22.	Укажите, какая составляющая ускорения любой точки твердого тела равна нулю при равномерном вращении твердого тела вокруг неподвижной оси.	1. Нормальное ускорение 2. Касательное ускорение 3. Полное ускорение 4. Ускорение равно нулю	2
23.	Как называется способность конструкции сопротивляться упругим деформациям?	1. Прочность 2. Жесткость 3. Устойчивость 4. Износостойкость	2

Блок Б

№ п/п	Задание (вопрос)	
<p>Инструкция по выполнению заданий № 24-30: В соответствующую строку бланка ответов запишите ответ на вопрос, окончание предложения или пропущенные слова.</p>		
24.	Допишите предложение: Парой сил называют две параллельные силы равные по и направленные в противоположные стороны.	1. Модулю

25.	Допишите предложение: Тело длина которого значительно больше размеров поперечного сечения принято называть брусом или	1. Стержнем
26.	Допишите предложение: Условие прочности состоит в том, что рабочие (расчетные) напряжения не должны превышать	Допускаемого напряжения
27.	Допишите предложение: Кручение - это вид деформации, при котором в поперечных сечениях бруса возникает один внутренний силовой фактор	Крутящий момент
28.	Допишите предложение: При чистом изгибе в поперечных сечениях балки возникает один внутренний силовой фактор -	Изгибающий момент
29.	Допишите предложение: Сила инерции точки равна по величине произведению массы точки на ее ускорение и направленно в сторону, противоположную	1. Ускорению
30.	Допишите предложение: Работа силы на прямолинейном перемещении равна произведению на величину перемещения и на косинус угла между направлением силы и направлением перемещения.	1. Модуля силы

Критерии оценивания

Оценка в пятибалльной шкале	Критерии оценки	Количество правильно данных вопросов
«2»	Выполнено менее 70% задания	Даны верные ответы менее, чем на 21 вопрос
«3»	Выполнено 70-79% задания	Даны верные ответы на 21 - 24 вопроса
«4»	Выполнено 80-89% задания	Даны верные ответы на 25 - 27 вопросов
«5»	Выполнено более 90% задания	Даны верные ответы на 28 вопросов и более

Приложение 3. Итоговый контроль (промежуточная аттестация)

Перечень вопросов для проведения
для проведения промежуточной аттестации
в форме устного дифференцированного зачета
по дисциплине
«Техническая механика»

1. Дайте определение абсолютно твердого тела и материальной точки.
2. Что такое сила? Охарактеризуйте эту физическую величину и единицу ее измерения в системе СИ.
3. Перечислите и охарактеризуйте основные аксиомы статики.
4. Что такое "эквивалентная", "равнодействующая" и "уравновешивающая" система сил?
5. Теорема о равновесии плоской системы трех непараллельных сил и ее доказательство.
6. В чем разница между распределенной и сосредоточенной нагрузкой? Что такое "интенсивность" плоской системы распределенных сил и в каких единицах она измеряется?
7. Что такое "плоская система сходящихся сил"? Определение равнодействующей плоской системы сил геометрическим и графическим методом.
8. Сформулируйте условия равновесия плоской системы произвольно расположенных сил.
9. Что такое момент силы относительно точки и в каких единицах (в системе СИ) он измеряется? Что такое момент пары сил и какие пары сил считаются эквивалентными?
10. Сформулируйте основные свойства пары сил в виде теорем.
11. Сформулируйте и докажите теорему о сложении пар сил. Сформулируйте условие равновесия плоской системы пар.
12. Сформулируйте и докажите теорему о приведении системы произвольно расположенных сил к данному центру. Что такое главным момент плоской системы произвольно расположенных сил?
13. Перечислите свойства главного вектора и главного момента системы произвольно расположенных сил.
14. Сформулируйте теорему о моменте равнодействующей системы сил (теорема Вариньона).
15. Сформулируйте три основных закона трения скольжения (законы Кулона).

16. Что такое коэффициент трения скольжения? От чего зависит его величина?
17. Сформулируйте условия равновесия пространственной системы произвольно расположенных сил.
18. Дайте определение центра тяжести тела и опишите основные методы его нахождения.
19. Дайте определение абсолютному и относительному движению. Что такое траектория точки?
20. Перечислите и охарактеризуйте способы задания движения точки.
21. Что такое скорость точки? Какими единицами (в системе СИ) она измеряется и какими параметрами характеризуется? Что такое средняя и истинная скорость точки?
22. Что такое ускорение точки? Какими единицами (в системе СИ) оно измеряется и какими параметрами характеризуется? Что такое среднее и истинное ускорение точки?
23. Дайте определение нормального и касательного ускорения. Сформулируйте теорему о нормальном и касательном ускорении.
24. Перечислите и охарактеризуйте виды движения точки в зависимости от величины ее касательного и нормального ускорения.
25. Дайте определение и поясните сущность поступательного, вращательного, плоскопараллельного и сложного движения твердого тела.
26. Перечислите основные законы динамики и поясните их смысл.
27. Сформулируйте принцип независимости действия сил и поясните его смысл. Назовите две основные задачи динамики.
28. Сформулируйте и поясните сущность метода кинетостатики для решения задач динамики (принцип Д'Аламбера).
29. Что такое работа силы? Какими единицами (в системе СИ) она измеряется?
30. Сформулируйте теорему о работе силы тяжести и поясните ее сущность.
31. Что такое мощность силы? Какими единицами (в системе СИ) она измеряется?
32. Что такое энергия? Дайте определение и поясните сущность коэффициента полезного действия.
33. Сформулируйте закон сохранения механической энергии и поясните его смысл.
34. Перечислите основные задачи науки о сопротивлении материалов. Что такое прочность, жесткость, устойчивость?

35. Перечислите основные гипотезы и допущения, принимаемых в расчетах сопротивления материалов и поясните суть. Сформулируйте принцип Сен-Венана.
36. Перечислите основные виды нагрузок и деформаций, возникающих в процессе работы машин и сооружений.
37. В чем заключается метод сечений, используемый при решении задач теоретической механики и сопротивления материалов?
38. Какие силовые факторы могут возникать в поперечном сечении бруса и какие виды деформаций они вызывают? Что такое эпюра?
39. Что такое напряжение и в каких единицах оно измеряется? В чем принципиальное отличие напряжения от давления?
40. Сформулируйте гипотезу о независимости действия сил (принцип независимости действия сил) и поясните ее сущность.
41. Сформулируйте закон Гука при растяжении и сжатии и поясните его смысл. Что такое модуль продольной упругости?
42. Опишите зависимость между продольной и поперечной деформациями при растяжении и сжатии. Что такое коэффициент Пуассона?
43. Сформулируйте условие прочности материалов и конструкций при растяжении и сжатии, представьте его в виде расчетной формулы. Что такое коэффициент запаса прочности?
44. Сформулируйте условие прочности материалов и конструкций при сдвиге, представьте его в виде расчетной формулы. Что такое срез (скалывание)?
45. Сформулируйте закон Гука при сдвиге и поясните его сущность. Что такое модуль упругости сдвига (модуль упругости второго рода)?
46. Что такое полярный момент инерции плоской фигуры? Какими единицами системы СИ он измеряется?
47. Что такое осевой момент инерции плоской фигуры? Какими единицами системы СИ он измеряется? Что такое центральный момент инерции?
48. Какие деформации и напряжения в сечениях бруса возникают при кручении? Что такое полный угол закручивания и относительный угол закручивания сечения?
49. Сформулируйте условие прочности бруса при кручении. Приведите расчетную формулу на прочность при кручении и поясните ее сущность.
50. Что такое чистый изгиб, прямой изгиб, косой изгиб? Какие напряжения возникают в поперечном сечении бруса при чистом изгибе?
51. Сформулируйте условие прочности балки (бруса) при изгибе. Приведите расчетную формулу и поясните ее сущность.

52. Что такое продольный изгиб? Приведите формулу Эйлера для определения величины критической силы при продольном изгибе и поясните ее сущность.
53. Что такое критерий работоспособности детали? Назовите основные критерии работоспособности и расчета деталей машин.
54. Перечислите наиболее распространенные в машиностроении типы разъемных и неразъемных соединений деталей.
55. Достоинства и недостатки клепаных соединений. Перечислите основные типы заклепок по форме головок. Как производится расчет на прочность клепаных соединений?
56. Достоинства и недостатки сварочных соединений. Виды сварки. Как производится расчет на прочность сварочных соединений?
57. Классификация и основные типы резьбы. Как производится расчет на прочность резьбовых соединений?
58. Что такое механическая передача? Классификация механических передач по принципу действия.
59. Основные кинематические и силовые соотношения в механических передачах. Что такое механический КПД передачи, окружная скорость, окружная сила, вращающий момент, передаточное число?
60. Классификация зубчатых передач. Достоинства и недостатки зубчатых передач.
61. Основные элементы и характеристики зубчатого колеса (шестерни). Что такое делительная окружность и модуль зубьев?
62. Перечислите способы изготовления зубьев зубчатых колес. Что такое модуль зубьев?
63. Характер и причины отказов зубчатых передач. Перечислите способы повышения работоспособности зубчатых передач.
64. Классификация ременных передач. Достоинства и недостатки ременных передач и область их применения.
65. Классификация цепных передач. Достоинства и недостатки цепных передачи и область их применения.
66. В чем отличие вала от оси? Классификация валов и осей по назначению и по геометрической форме.
67. Классификация и условные обозначения подшипников качения. Основные типы подшипников качения. Характер и причины отказов подшипников качения.
68. Классификация муфт. Перечислите наиболее часто применяемые в машиностроении виды муфт, их достоинства и недостатки.

Лист согласования

Дополнения и изменения к комплекту КОС на учебный год

Дополнения и изменения к комплекту КОС на _____ учебный год по
ПМ (УД) _____

В комплект КОС внесены следующие изменения:

Дополнения и изменения в комплекте КОС обсуждены на заседании
ПЦК _____

«_____» _____ 20____ г. (протокол № _____).

Председатель ПЦК _____ / _____ /

Рассмотрена на заседании ПЦК
общеобразовательных дисциплин
Протокол № 4 от 10 апреля 2024 г.
Председатель _____ Юсупова Г.М.

Утверждаю
Заместитель директора по НМР
_____ Н.Б.Щербакова
« ____ » _____ 2024 г.

Комплект контрольно-оценочных средств учебной дисциплины разработан на основе Федерального государственного образовательного стандарта среднего профессионального образования (далее СПО) по специальности (профессии) 13.02.13 Эксплуатация и обслуживание электрического и электромеханического оборудования (по отраслям).

Разработчик:

Валеева Флюра Раилевна – преподаватель специальных дисциплин ГАПОУ
«Лениногорский политехнический колледж»